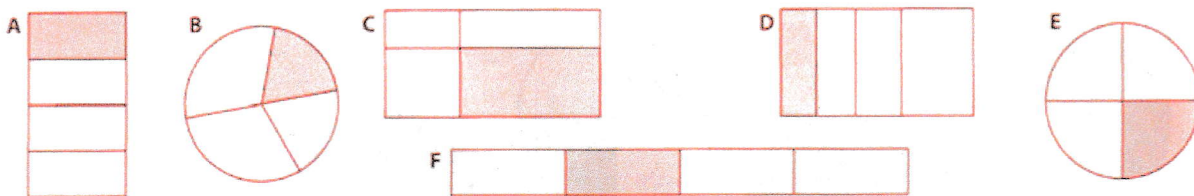



LES FRACTIONS CM1

Prénom : _____ Date : _____

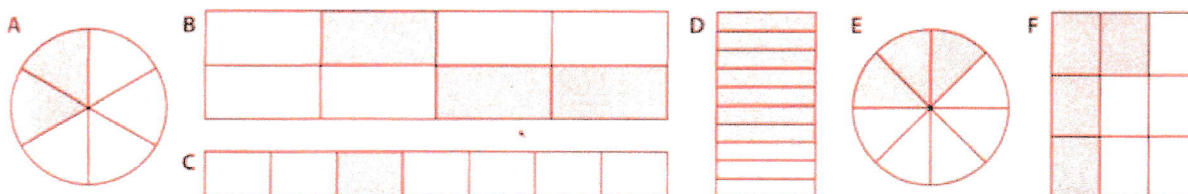
1) Colorie les figures dont on a colorié le quart : ($\frac{1}{4}$) \triangle aux pièces



2) Colorie les figures dont on a colorié le tiers : ($\frac{1}{3}$) \triangle aux pièces

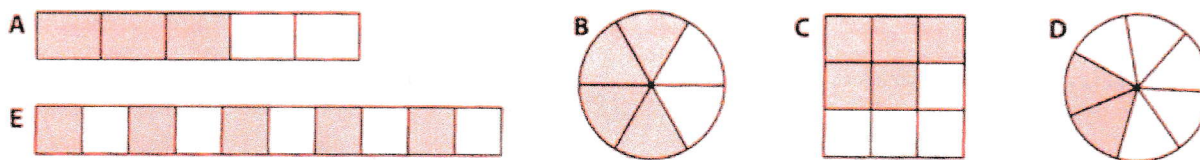


3) Pour chaque figure, écris la fraction correspondant à la partie coloriée :



A =	B =	C =	D =	E =	F =
-----	-----	-----	-----	-----	-----

4) Pour chaque figure, écris la fraction correspondant à la partie coloriée :



A =	B =	C =	D =	E =
-----	-----	-----	-----	-----