

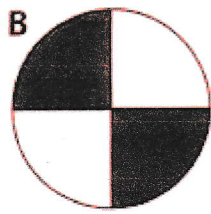



5) Pour chaque figure, écris la fraction correspondant à la partie coloriée :



A = $\frac{2}{3}$	B =	C =	D =
-------------------	-----	-----	-----

6) Écris en chiffres :

un cinquième :

deux septièmes :

quatre huitièmes :

trois tiers :

cinq sixièmes :

un demi :

7) Écris en lettres :

$\frac{1}{4}$:

$\frac{3}{4}$:

$\frac{1}{2}$:

$\frac{5}{8}$: