

Plan de travail du lundi 23 au vendredi 30 mars

Écriture

Imagine que tu visites un château hanté. Décris ce que tu vois en minimum 5 phrases. (Écris au présent de l'indicatif)

.....

.....

.....

.....

.....

.....

.....

.....

.....

.....

Vocabulaire :

Donne les contraires des mots suivants :

remplir :

augmenter :

maigre :

chaud :

l'entrée :

le haut :

la nuit :

large :

Relie chaque mot à son contraire : Utilise le dictionnaire si besoin

Silencieuse	●	●	ennuyeux
Courageux	●	●	facile
Moderne	●	●	bruyante
Dur	●	●	mou
Complexe	●	●	lâche
Intéressant	●	●	ancien

Colorie de la même couleur 2 mots de sens contraire, en changeant de couleur à chaque fois.

<i>gros</i>	<i>ouvert</i>	<i>irrespectueux</i>	<i>chaud</i>
<i>agité</i>	<i>épais</i>	<i>maigre</i>	<i>faible</i>
<i>fort</i>	<i>respectueux</i>	<i>calme</i>	<i>fin</i>
<i>vivant</i>	<i>froid</i>	<i>fermé</i>	<i>mort</i>

Conjugaison : Conjugue au passé composé (voir leçons sur les liens)

1. J'(choisir)_____ d'apprendre la danse classique.
2. Vous (comprendre)_____ ce problème.
3. Les pompiers (venir)_____ en aide aux accidentés.
4. Nous (promettre)_____ une belle balade s'il travaillait bien.
5. Tu (agir)_____ avec courage.
6. Quand je (monter) _____ me coucher, j'étais fatigué mais heureux.
7. J'avais cinq ans quand j'(voir) _____ la mer.
8. Il (s'amuser) _____ le jour du réveillon.
9. On (danser) _____.
10. Puis nous (goûter) _____ le délicieux repas.

Conjugaison : Lis le texte suivant et réécris-le en changeant « la marmotte » par « les marmottes » ; fais tous les changements nécessaires. (Attention le texte est au présent de l'indicatif et il doit rester au présent de l'indicatif)

La marmotte est un animal qui vit dans les montagnes. Elle se cache dans les rochers ou dans son terrier. La marmotte vit en famille. Comme la souris, la marmotte est un rongeur. Elle mange surtout de l'herbe mais elle se nourrit aussi de vers, de sauterelles. Pour manger, elle se tient debout sur ses pattes de derrière. Lorsque la température baisse, la marmotte prépare un nid au fond de son terrier, avec du foin. Elle bouche l'entrée et s'endort pour tout l'hiver.

.....

.....

.....

.....

.....

.....

.....

.....

.....

.....

.....

.....

.....

.....

.....

.....

Orthographe : Complète avec g ou gu

La pluie tombeoutte àoutte. Les montagnards suivent leide le long des sentiers escarpés. Cette année, larippe a fait des rava.....es. Leratin dauphinois se fait avec des pommes de terre. Nous sommes montés dans lerenier pour faire du ran.....ement. Nous avons enre.....istré des morceaux de musique joués à laitare. Céline est revenue les bras char.....és d'objets complètement din.....es. Nous irons sur la pla.....e ramasser toutes sortes de coquilla.....es.

Lecture compréhension :

Lis le texte et réponds aux questions par des phrases :

Comme nous sommes tristes quand nous sommes malades ! Comme c'est pénible ! C'est pourquoi nous voulons tous rester en bonne santé.

Pour maintenir notre corps en bon état de marche, il nous faut beaucoup d'air pur à respirer. Les enfants de la campagne ou des bords de mer le trouvent chez eux. Pour les enfants des villes, il a fallu créer des colonies de vacances, des classes de mer, des classes de campagne ou classes vertes, des classes de neige. Ils peuvent donc aller respirer l'air pur.

Pour garder une bonne santé, il nous faut encore beaucoup d'eau pure à boire et des aliments bien choisis. Depuis quelques années, les hommes luttent contre la pollution des eaux. La pollution est un mot que vous connaissez bien aujourd'hui.

Mais tout cela n'est pas encore suffisant. Quand nous travaillons, quand nous jouons, nous fatiguons notre corps et nous l'usons. Si une personne est lasse, elle se fâche pour des riens; elle ne peut pas rassembler vite ses idées; elle risque de prendre froid. Il faut donc se reposer. C'est ainsi que le corps se répare lui-même.

Les enfants ont besoin de plus de repos que les grandes personnes. En effet, leur corps doit non seulement se réparer, mais aussi grandir. C'est le sommeil qui est le meilleur repos.

La propreté est un autre moyen d'aider notre corps à rester en bon état et à fonctionner sans maladie. Un regard dans la glace suffit à nous montrer comme nous sommes laids quand nous sommes sales. Un bain ou une douche par jour et nous gardons une peau bien claire et bien nette qui nous protège bien. Il faut aussi prendre soin de bien nous brosser les dents. Si nous laissons des débris de nourriture entre elles, la carie attaque l'émail.

Tous ceux qui ont une automobile savent qu'il faut la faire réviser de temps en temps. Le mécanicien regarde les pneus, les freins, le moteur. Il faut aussi vérifier notre corps à nous. Pour cela, nous allons voir le médecin et le dentiste. Ils savent ce qu'il faut faire pour remettre la machine en bon état de marche.

Il faut donc travailler, jouer en plein air, se reposer, rester propre et se faire soigner pour garder une bonne santé.

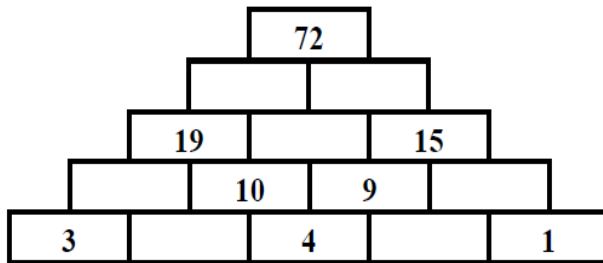
D'après PARKER

- 1 - Que doit-on boire pour conserver une bonne santé ?
- 2 - Quand une personne se fâche t-elle pour des riens ?
- 3 - Les enfants doivent-ils dormir autant les uns que les autres ?
- 4 - Tous les enfants aiment-ils travailler et jouer ?
- 5 - Quel est le meilleur repos ?
- 6 - Qui peut vérifier le bon état de notre corps ?
- 7 - Quel autre nom donne-t-on aux classes de campagne ?
- 8 - A qui a-t-on pensé surtout en créant les classes de mer, de neige ou de campagne ?
.....
- 9 - Quel temps de sommeil faut-il de 7 à 9 ans ?
- 10 - Que regarde un mécanicien, quand il vérifie la voiture ?

Calcul

Résous la pyramide additive.

Trouve une solution au Compte est Bon. En utilisant les opérations autorisées (+, - et x), trouve le bon résultat en effectuant des opérations avec les nombres donnés. Tu n'es pas obligé de tous les utiliser, mais tu ne peux les utiliser qu'une seule fois



24

+ - x

1 - 2 - 3 - 4 - 5

Calcul mental :

11 Sans poser d'opération, trouve rapidement les sommes suivantes.

- $150 + 150 + 150 + 150 + 150 + 150$
- $1\ 001 + 1\ 001 + 1\ 001 + 1\ 001 + 1\ 001$
- $99 + 99 + 99 + 99 + 99 + 99$
- $995 + 1\ 005 + 995 + 1\ 005 + 995 + 1\ 005$

12 Calcule les sommes suivantes sans poser d'opération.

- $437 + 10 + 10 + 10$
- $529 + 10 + 100 + 100$
- $683 + 10 + 100 + 100 + 100$
- $800 + 10 + 10 + 100 + 1\ 000$
- $6\ 784 + 10 + 10 + 1\ 000$
- $999 + 10 + 100 + 1\ 000$
- $5\ 028 + 100 + 100 + 1\ 000 + 1\ 000$
- $81 + 10 + 100 + 1\ 000 + 10$

Ecris le résultat et pense à mettre les espaces entre les chiffres aux bons endroits !

$5 \times 100 =$

$31 \times 1000 =$

$12 \times 1000 =$

$7 \times 100 =$

$3 \times 10 =$

$100 \times 10 =$

$143 \times 10 =$


$1000 \times 49 =$


$221 \times 100 =$


$100 \times 360 =$


Numération


1) Place les nombres manquants sur la droite graduée et écris la différence commune entre 2 traits :

1. 
Différence commune: _____

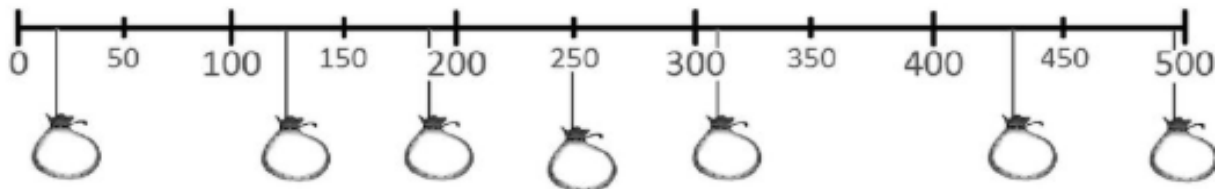
2. 
Différence commune: _____

3. 
Différence commune: _____

4. 
Différence commune: _____

5. 
Différence commune: _____

2- Place les nombres dans les sacs. 250 20 185 312 430 497 125



Le nombre du jour :

Choisis un nombre du jour (tu peux aussi faire les 3 !) *136

** 9 823

*** 34 764

Ecris le en lettres :

Décompose-le avec des + :

Décompose-le avec des x et des + :

Encadre-le à l'unité, à la dizaine, à la centaine...

Exemple :

22 624 : encadré à l'unité : $22\ 623 < 22\ 624 < 22\ 625$

22 624 : encadré à la dizaine : $22\ 620 < 22\ 624 < 22\ 630$

22 624 : encadré à la centaine : $22\ 600 < 22\ 624 < 22\ 700$

*136

** 9 823

*** 34 764

..... <<.....

..... <<.....

..... <<.....

..... <<.....

..... <<.....

..... <<.....

..... <<.....

..... <<.....

..... <<.....

Grandeurs et mesures :

Relie chaque heure à l'horloge correspondante.

6 h 15

22 h 30

15 h 40

8 h 10



Écris les heures du matin pour chaque horloge.



..... h

..... h

..... h

..... h

Résous les problèmes

- 1) Le film « Alice aux pays des merveilles » passe à la télévision. Vivian commence à regarder le film à 20h30. Le film se termine à 22h05. Combien de temps a duré le film ?
- 2) Armin et son équipe ont un match de foot ce samedi. Il y a deux mi-temps de 18 minutes et une pause de 10 minutes entre les deux. Combien de temps dure le match en tout ?
- 3) Anne dort 10h chaque nuit. Elle se couche à 20h30. A quelle heure se réveille-t-elle ?

La monnaie :

Dessine avec le moins de pièces et de billets la somme demandée :



67c



1€18c



75c



755€



826€

Calcule le rendu de monnaie : (Arrondis à l'euro supérieur puis ajoute ce qui manque !)



15.50€



140€



78.20€



29.90€



172€

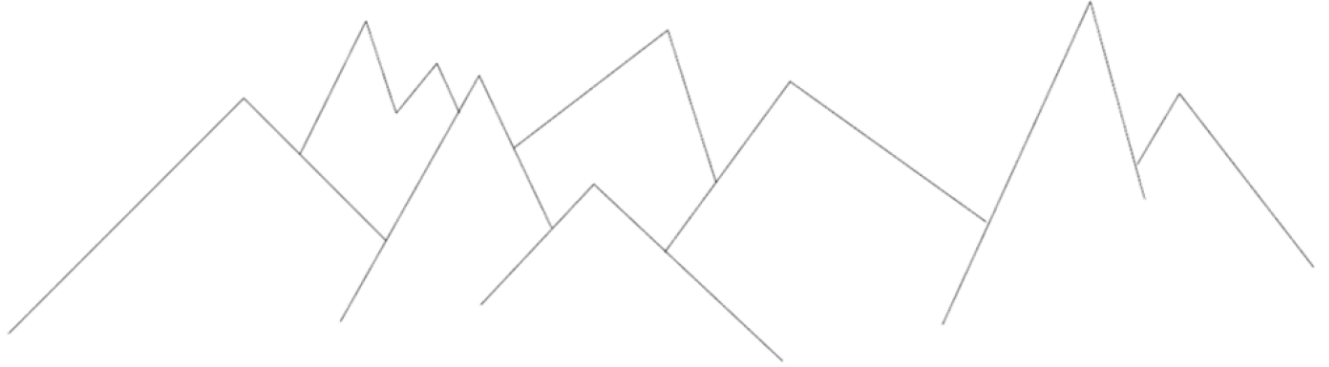


Tu peux travailler la monnaie sur l'ordinateur ou la tablette avec ce jeu :

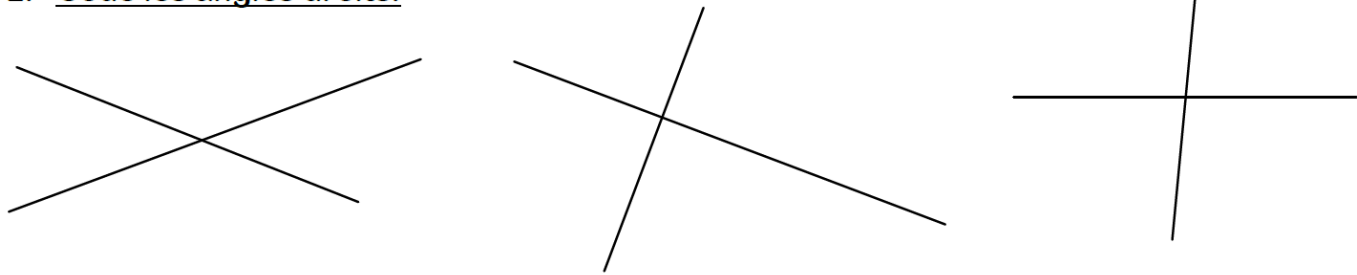
<https://www.logicieleducatif.fr/math/calcul/euromonnaie.php>

Géométrie :

1. Retrouve les angles droits avec ton équerre et code-les.




2. Code les angles droits.




1

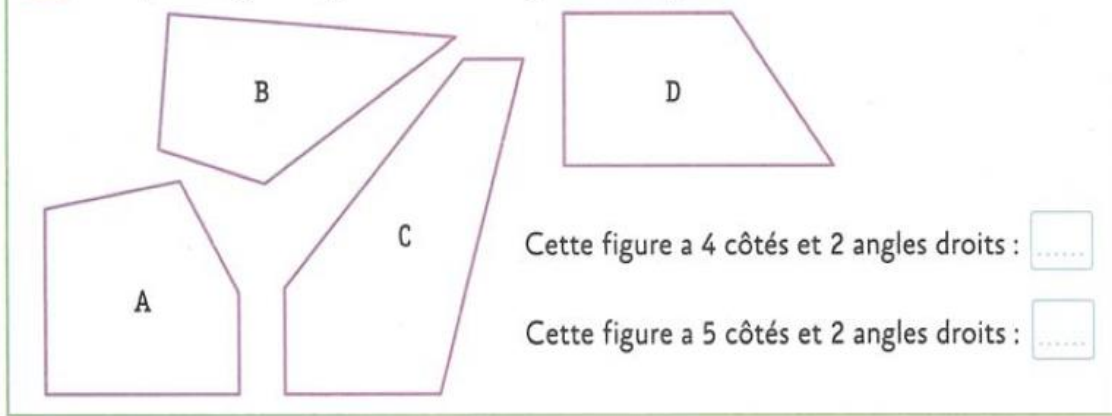
À chaque carrefour, la voiture prend toujours la rue qui tourne en faisant un angle droit. Colorie son trajet.



2 Ces angles sont-ils droits ? Écris oui ou non.



3 De quelle figure s'agit-il ? Utilise le gabarit d'angle droit.



Géographie :

Les grandes villes de France :

https://www.logicieleducatif.fr/eveil/geographie/villes_france.php