

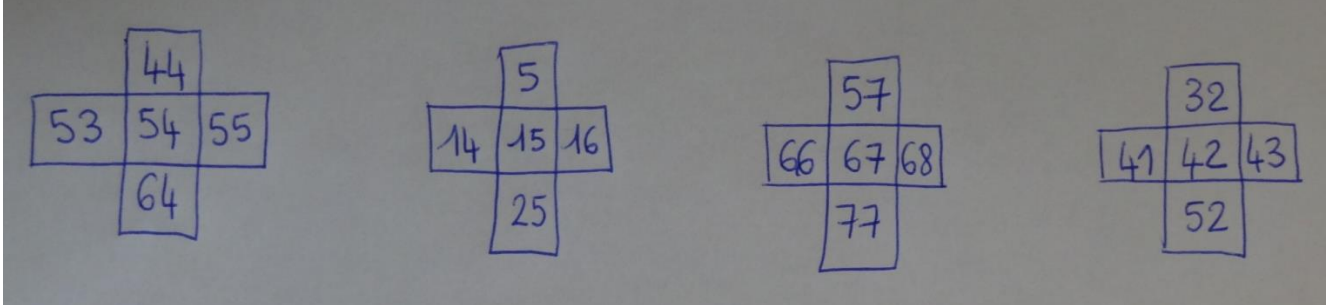
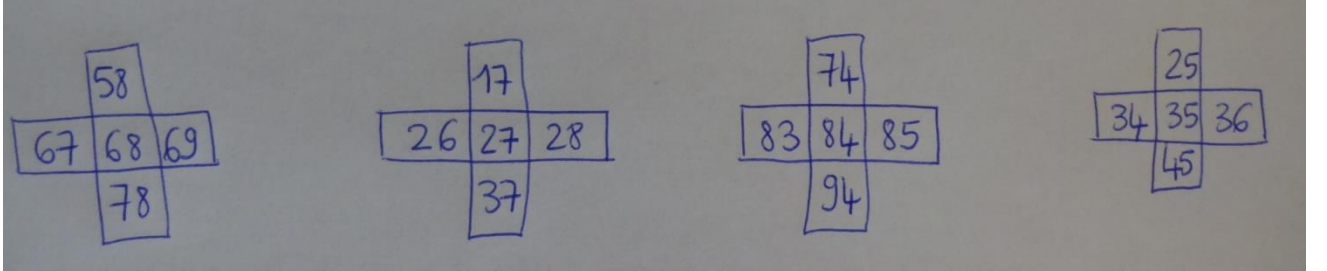






**CORRECTION - Mathématiques**  
**semaine 11 du lundi 25 mai au vendredi 29 mai**

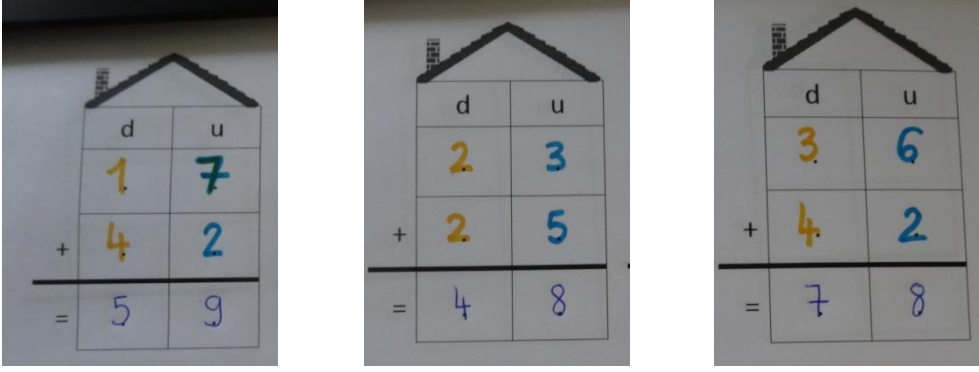
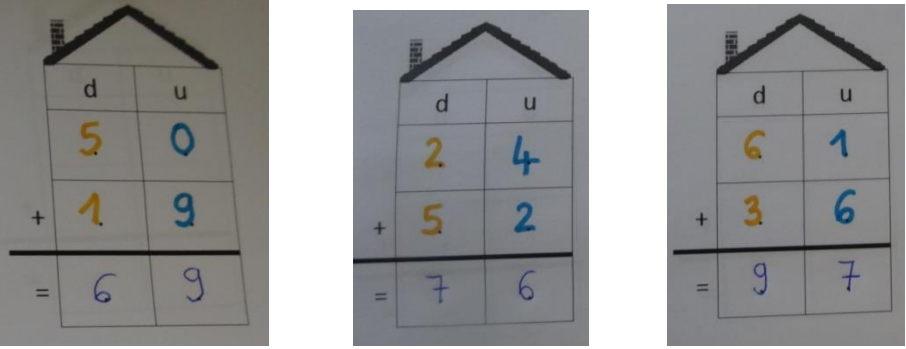
**Activité 1 Maîtriser les nombres jusqu'à 100**

<p>lundi</p>	<p>Complète le tableau en rajoutant 10.</p>  <table border="1" data-bbox="459 309 1216 436"> <tr> <td>22</td><td>16</td><td>8</td><td>49</td><td>70</td><td>51</td><td>63</td><td>84</td> </tr> <tr> <td>32</td><td>26</td><td>18</td><td>59</td><td>80</td><td>61</td><td>73</td><td>94</td> </tr> </table>	22	16	8	49	70	51	63	84	32	26	18	59	80	61	73	94
22	16	8	49	70	51	63	84										
32	26	18	59	80	61	73	94										
<p>mardi</p>	<p>Complète le tableau en enlevant 10.</p> <table border="1" data-bbox="231 548 933 667"> <tr> <td>46</td><td>32</td><td>85</td><td>13</td><td>7</td><td>58</td><td>62</td><td>29</td> </tr> <tr> <td>56</td><td>42</td><td>95</td><td>23</td><td>17</td><td>68</td><td>72</td><td>39</td> </tr> </table> 	46	32	85	13	7	58	62	29	56	42	95	23	17	68	72	39
46	32	85	13	7	58	62	29										
56	42	95	23	17	68	72	39										
<p>jeudi</p>	<p>Complète les croix des nombres.</p> 																
<p>vendredi</p>	<p>Complète les croix des nombres.</p> 																

**Activité 3 Maîtriser les dizaines et les unités**

<p align="center">lundi</p>  <p align="center">22</p>	<p align="center">mardi</p>  <p align="center">22</p>
<p align="center">jeudi</p>  <p align="center">23</p>	<p align="center">vendredi</p>  <p align="center">35</p>

## Activité 4 Poser des additions en colonne (sans retenue)

jeudi	<p>Calculer des additions posées :</p> 
vendredi	<p>Calculer des additions posées :</p> 




## Activité 5 Résoudre un problème

mardi	$5 + 5 + 5 + 5 + 5 + 5 = 30$ Lisa a 6 billets de 5 euros.
vendredi	$8 + \dots = 24 \rightarrow 24 - 8 = 16$ Il manque encore 16 assiettes.

## Activité 6 Mesurer des segments

<b>Mardi</b> 26/05	Bande rouge 4	Bande bleue 3	Bande verte 3	Bande orange 5	
<b>Jeudi</b> 28/05	Il faut bien utiliser sa règle pour faire cet exercice.				
	<b>a</b> 3 cm	<b>b</b> 9 cm	<b>c</b> 11 cm	<b>d</b> 2 cm	

**1** Colorie les bandes si elles mesurent **5 cm**.



Vendredi  
29/05