








SEMAINE DES MATHÉMATIQUES

ENIGME 1 – CYCLE 1

Poules et moutons



Niveau 1



Quel animal doit-on coller pour avoir autant de moutons que de poules ?

Poules et moutons

Niveau 2

3	
2	

Voici les animaux que possède Julie.

Avec ses amis, elle s'amuse à compter les pattes de ses animaux.

Julie trouve 12 pattes.

Pauline trouve 14 pattes.

Paul trouve 16 pattes.

Qui a raison?

Poules et moutons

Niveau 3



Ajoute des poules pour avoir autant de pattes de poules que de pattes de moutons.

Combien de poules as-tu collé ?

